



La información en gráficos

CENSO EN EL AULA

1- BUSCAR LA INFORMACIÓN

2- ORGANIZARLA

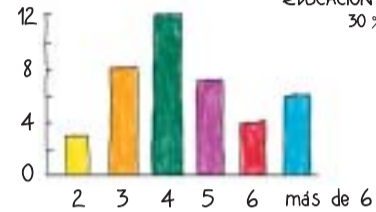
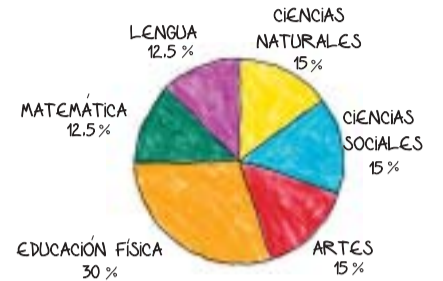
3- REPRESENTARLA

PREGUNTA 1

¿QUÉ MATERIA TE GUSTA MÁS?

Matemática	<input type="checkbox"/>
Lengua	<input type="checkbox"/>
Ciencias Naturales	<input type="checkbox"/>
Ciencias Sociales	<input type="checkbox"/>
Artes	<input type="checkbox"/>
Educación Física	<input type="checkbox"/>

MATERIA	MATEMÁTICA	LENGUA	CIENCIAS NATURALES	CIENCIAS SOCIALES	ARTES	EDUCACIÓN FÍSICA	TOTAL
N° ALUMNOS	5	5	6	6	6	12	40
PORCENTAJE	12,5%	12,5%	15%	15%	15%	30%	

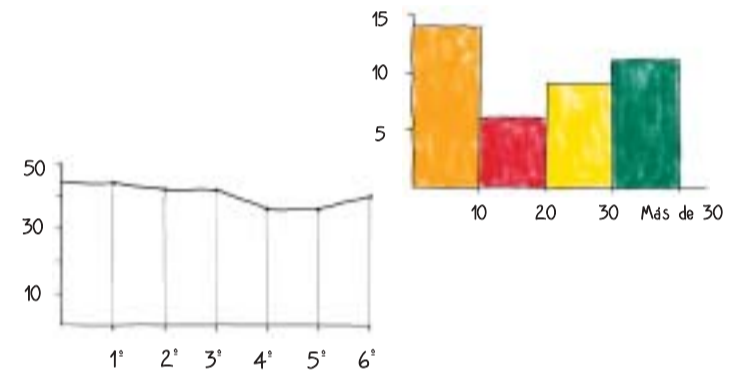


PREGUNTA 2

¿CUÁNTAS PERSONAS FORMAN TU FAMILIA?

2	<input type="checkbox"/>	3	<input type="checkbox"/>	4	<input type="checkbox"/>
5	<input type="checkbox"/>	6	<input type="checkbox"/>	más de 6	<input type="checkbox"/>

CANTIDAD FAMILIARES	2	3	4	5	6	MÁS DE 6	TOTAL
N° ALUMNOS	3	8	12	7	4	6	40



PREGUNTA 3

¿A CUÁNTAS CUADRAS DE LA ESCUELA VIVIS?

menos de 10	<input type="checkbox"/>
de 10 a 19	<input type="checkbox"/>
de 20 a 29	<input type="checkbox"/>
más de 29	<input type="checkbox"/>

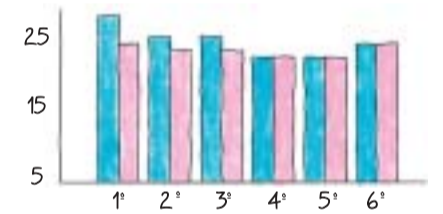
CANTIDAD CUADRAS	MENOS DE 10	DE 10 A 19	DE 20 A 29	MÁS DE 29	TOTAL
N° ALUMNOS	14	6	9	11	40

PREGUNTA 4

¿CUÁNTOS ALUMNOS HUBO/HAY EN TU GRADO DESDE 1° HASTA 6°?

menos de 10	<input type="checkbox"/>
de 10 a 19	<input type="checkbox"/>
de 20 a 29	<input type="checkbox"/>
más de 29	<input type="checkbox"/>

AÑO ESCOLAR	1°	2°	3°	4°	5°	6°	TOTAL
N° ALUMNOS	44	42	42	36	36	40	40



PREGUNTA 5

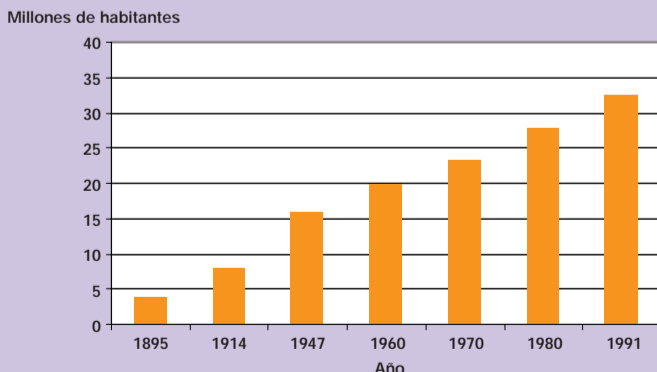
¿CUÁNTOS ALUMNOS DE CADA SEXO HABÍA EN CADA AÑO?

AÑO ESCOLAR	1°	2°	3°	4°	5°	6°
VARONES	24	21	21	18	18	20
MUJERES	20	19	19	18	18	20

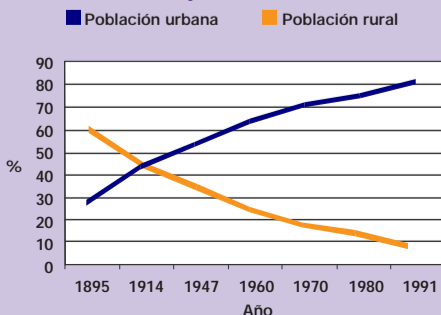
CENSOS NACIONALES

Los censos nacionales de población y vivienda también recogen información y la expresan en cifras organizadas en tablas y gráficos. Durante el último censo, en 1991, se obtuvieron datos como los que se ven en los gráficos siguientes, y, en algunos casos, los compararon con los obtenidos en años anteriores.

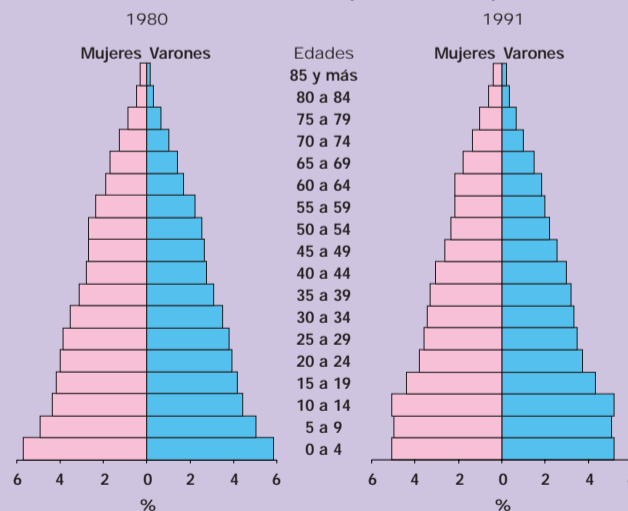
Evolución de la población desde 1895 a 1991



Población urbana y rural a través de los censos



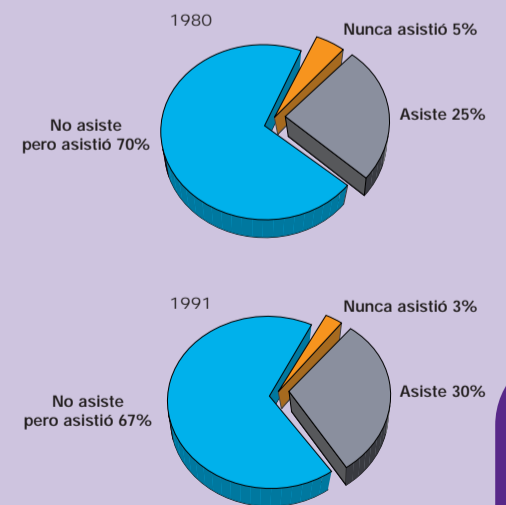
Evolución de la estructura poblacional del país



Población total por sexo según edad

Edad	Población total	Varones	Mujeres
Total del país	32.615.528	15.937.980	16.677.548
0 a 4	3.350.073	1.695.891	1.654.182
5 a 9	3.277.937	1.657.514	1.620.423
10 a 14	3.342.577	1.686.997	1.655.580
15 a 19	2.850.105	1.417.619	1.432.486
20 a 24	2.454.123	1.213.835	1.240.288
25 a 29	2.304.242	1.137.361	1.166.881
30 a 34	2.214.181	1.094.131	1.120.050
35 a 39	2.119.168	1.043.202	1.075.966
40 a 44	1.963.648	969.612	994.036
45 a 49	1.690.055	832.386	857.669
50 a 54	1.489.724	722.631	767.093
55 a 59	1.361.547	652.436	709.111
60 a 64	1.305.161	601.706	703.455
65 a 69	1.064.115	481.562	582.553
70 a 74	760.853	324.719	436.134
75 a 79	556.333	222.793	333.540
80 a 84	319.769	119.063	200.706
85 a 89	138.422	48.207	90.215
90 a 94	42.787	13.069	29.718
95 y más	10.708	3.246	7.462

Asistencia escolar de la población de 5 años y más



Estructura porcentual de asistencia por nivel

